

I. Károly bevezette a harmincadvámot, ami alapján az országba **érkező** és onnan **távozó** kereskedők kötelesek voltak megfizetni árujuk értékének **harmincad** részét.

**Feladat:**

*Egy itáliai kereskedő a magyar határon bejövetelkor 3 aranyforintot, távozásakor pedig 1 aranyforint vámot fizetett.*

*Milyen értékű áruval érkezett?*

*Mennyit sikerült eladnia?*

*Mennyi volt a kereskedő tiszta haszna?* 3 pont

Károly Róbert a kiskirályok leverése után megerősítette gazdasági hatalmát. Húzd alá az alábbiak közül, amely rá jellemző!

*füstpénz, kapuadó, aranyforint, vaspénz, bányavárosok, harmincadvám, vámok eltörlése* 4 pont

Húzd össze a megfelelőket!

*Csák Máté* *király*

*Selmecbánya* *árumegállító jog*

*Visegrád* *kiskirály*

*Károly Róbert* *királytalálkozó*

*Zách Felicián* *bányaváros*

*Bécs* *merénylő* 6 pont

Állítsd a következő királyokat uralkodásuk időrendi sorrendjébe!

II. Ulászló (Dobzse László)

I. (Nagy) Lajos

Zsigmond


I. Károly

II. Lajos

Hunyadi Mátyás

I. Ulászló 7 pont

**Fejtsd meg a keresztrejtvényt, és írd a megfejtést a pontozott vonalra!**



1. Ebben a városban alapított egyetemet Lajos király.
2. Lajos király testvére.
3. A magyar mellett még ezen a népen uralkodott Nagy Lajos.
4. Itáliai város, Lajos király háborút vezetett ellene.
5. Így is nevezzük a parasztot.
6. A nemesek jobbágyaik feletti bíraskodási joga.
7. Károly Róbert király fia.
8. András herceg felesége.
9. Ez a törvény mondta ki, hogy a nemesek nem bocsáthatják áruba földbirtokaikat, és nem is végrendelkezhetnek róluk szabadon.

**Meghatározások:**

- 1.
- 2.
- 3.
- 4.
- 5.
- 6.
- 7.
- 8.
- 9.

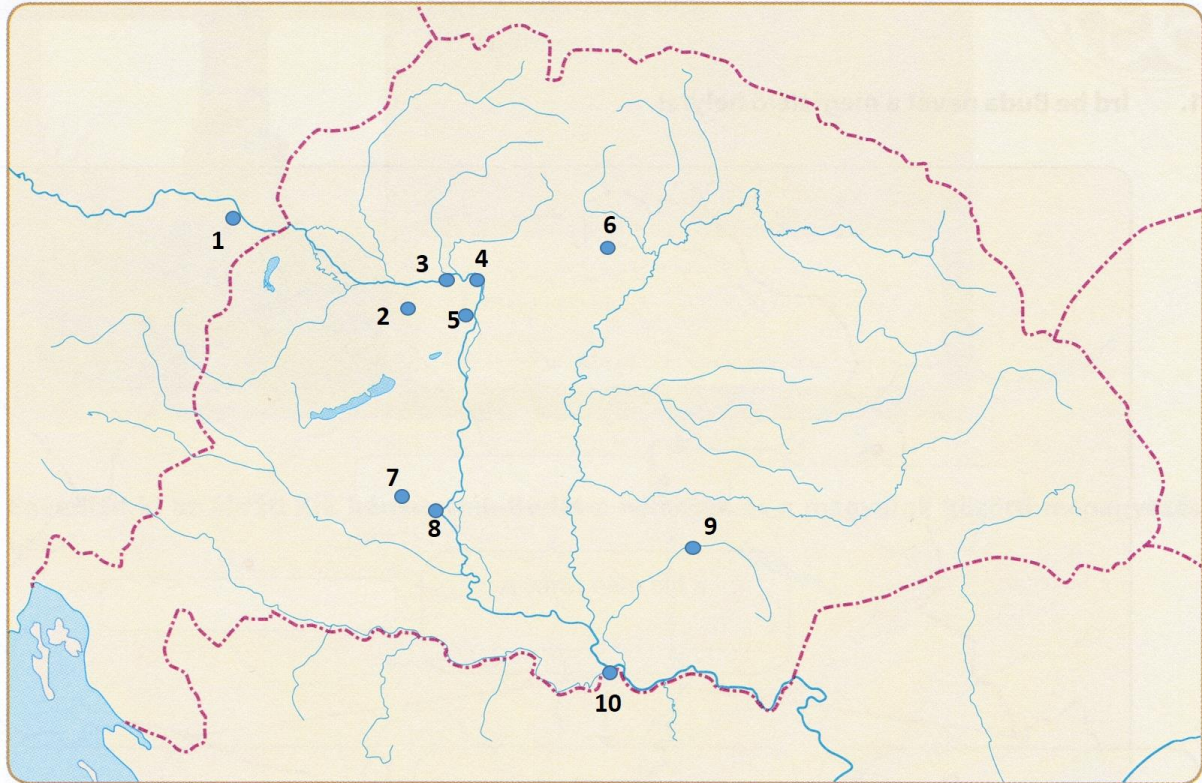
Megfejtés: .....

**10 pont**

Állítsd sorrendbe az alábbi magyar királyokat aszerint, hogy hány évig uralkodtak! Első helyre a legtovább trónon ülő királyt írd!

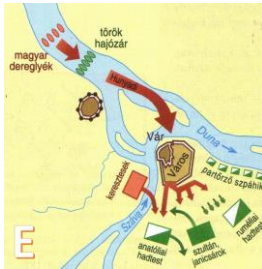


Szent István    Nagy Lajos    I. Károly (Károly Róbert)    Luxemburgi Zsigmond  
4 pont

Mely földrajzi helyeket jelölnek a térképen látható számok?



Sorszám	Történelmi hely neve	Kép betűjele	Leírás
1			„... nyögte Mátyás bús hadát .....-nek büszke vára
2			Zsigmond király kedvenc vadász-kastélya
3			érseki székhely, Bakócz Tamás kápolnát építtetett ide
4			királytalálkozó színhelye, Mátyás reneszánsz palotája
5			királyi székhely, várát IV. Béla kezdte el építtetni
6			Nagy Lajos kedvenc lovagvára
7			Nagy Lajos egyetemet alapít
8			nemzeti gyászhelyünk
9			Dózsa György kivégzésének helyszíne
10			Magyarország kapuja, déli harangszó

Az alábbi képek betűjelét írd az előbbi táblázat megfelelő helyére!



20 pont